

中華郵政股份有限公司 111 年職階人員甄試試題

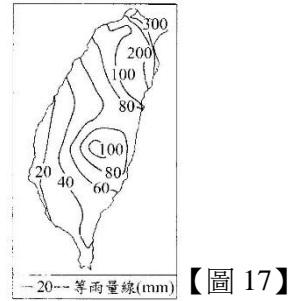
職階／甄選類科【代碼】：專業職(二)外勤／郵遞業務【U3501-U3518】、
運輸業務【U3519-U3523】

第三節／專業科目(1)：臺灣自然及人文地理 *入場通知書編號：

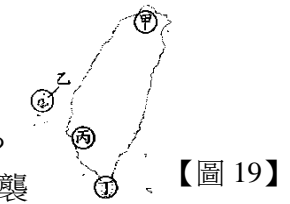
注意：①作答前先檢查答案卡，測驗入場通知書編號、座位標籤、應試科目等是否相符，如有不同應立即請監試人員處理。使用非本人答案卡作答者，該節不予計分。
②本試卷一張雙面，四選一單選擇題共 60 題，第 1-40 題，每題 1.5 分；第 41-60 題，每題 2 分，合計 100 分。限用 2B 鉛筆在「答案卡」上作答，請選出一個正確或最適當答案，答錯不倒扣；以複選作答或未作答者，該題不予計分。
③請勿於答案卡上書寫姓名、入場通知書編號或與答案無關之任何文字或符號。
④答案卡務必繳回，未繳回者該節以零分計算。

第一部分：第 1-40 題（每題 1.5 分）

- 【2】1.臺灣哪一縣市是目前六個直轄市以外人口最多的縣市，並曾向內政部提出升格(直轄市)案但最後審查未通過？
①新竹縣 ②彰化縣 ③雲林縣 ④屏東縣
- 【1】2.有臺灣尼加拉瀑布美稱的十分瀑布位於哪一條溪流之上？
①基隆河 ②新店溪 ③木瓜溪 ④立霧溪
- 【4】3.全臺規模最大的王爺信仰中心為南鯤鯓代天府，這裡的「鯤鯓」是指何種地形？
①山脈 ②礮灘 ③潮埔 ④沙洲
- 【2】4.某原住民族稱大霸尖山為「Papak Waqa」，形容山的兩側形狀像人的耳朵，此應來自哪一原住民族的說法？
①凱達格蘭族 ②泰雅族 ③阿美族 ④布農族
- 【4】5.土石流為臺灣常見的自然災害之一，其發生的必要條件「不包括」下列何者？
①大量土石堆積 ②充分的水量 ③適當的坡度 ④稀疏的植被
- 【2】6.國道 5 號某一路段是鑿穿哪一座山脈而建成？
①陽明山山脈 ②雪山山脈 ③中央山脈 ④阿里山山脈
- 【4】7.臺灣素有「水果王國」的美譽，下列水果的品名和產地之搭配，何者正確？
①卓蘭巨峰葡萄—新竹 ②麻豆老欖文旦—彰化 ③大樹玉荷包—臺東 ④林邊黑珍珠—屏東
- 【2】8.臺灣沙塵暴的好發期間，最可能在下列哪些節氣之時發生？ 甲、立秋 乙、春分 丙、清明 丁、夏至
①甲乙 ②乙丙 ③丙丁 ④甲丁
- 【3】9.臺灣受氣候變遷等因素影響，梅雨帶來的雨量並不穩定，例如 2021 年的缺水危機即是受前一年空梅和沒有颱風登陸所影響。請問 2020 年發生空梅的主要原因為何？
①沒有颱風形成 ②西南氣流過強 ③太平洋高壓強盛 ④東北季風持續增強
- 【1】10.臺灣的人口老化速度加劇，根據國發會推估，臺灣將於 2025 年邁入超高齡社會，代表此時「幾歲」的老年人口將超過多少「百分比」？
① 65 歲／20% ② 65 歲／14% ③ 60 歲／20% ④ 60 歲／14%
- 【4】11.清朝時期有「一府二鹿三艋舺四_____」，四地皆為當時臺灣重要的貿易地區，請問「四」應為何地？
①梧棲 ②東港 ③基隆 ④月津
- 【1】12.目前仍在營運的臺鐵支線「不包括」下列哪一條？
①淡水線 ②平溪線 ③內灣線 ④集集線
- 【3】13.雪山主峰為臺灣第二高峰，其東北方有 1 號、2 號圈谷，請問圈谷屬於何種地形？
①火山 ②風成 ③冰河 ④石灰岩
- 【1】14.台灣海峽的澎湖水道有「黑水溝」之稱，最有可能的原因為何？
①沉積物少使光線直達深處 ②海水中多為深色沉積物
③水流方向多變使泥沙混濁 ④海峽兩側提供豐富懸浮物
- 【4】15.下列何地區在南島語族的分布範圍中？ A.蘭嶼 B.大溪地 C.夏威夷
①僅 AB ②僅 BC ③僅 AC ④ ABC
- 【2】16.桃園龍岡歷年舉辦的米干節活動，其由來與下列何地的移民有關？
①越南 ②緬甸 ③印尼 ④馬來西亞
- 【3】17.【圖 17】為臺灣某月份的月平均等雨量線圖，圖中雨量的分布呈現何種氣候特色？
①午後多雷陣雨 ②梅雨季降水多 ③盛行東北季風 ④熱帶氣旋侵襲
- 【3】18.「這裡是臺灣本島最北的陸地，早期平埔族人稱它為打鞭，荷蘭人則稱它為海岬，後人便取譯音而得到今天的地名。」以上敘述係指臺灣的哪一個地方？
①鵝鑾鼻 ②鼻頭角 ③富貴角 ④三貂角
- 【1】19.野外原生的臺灣水韭只出現在臺灣某國家公園內，是珍貴的臺灣特有種國寶級植物，也是全世界緯度最低的水韭類植物之一。該植物出現在【圖 19】何地？
①甲 ②乙 ③丙 ④丁



【圖 17】



【圖 19】

- 【2】20.金門傳統的聚落別具特色，但因當地居民早期到南洋經商返鄉後，也將所見的建築形式帶回金門。下列哪些是今日金門常見的建築樣式？ 甲、石板屋 乙、番仔樓 丙、閩式建築 丁、客家土樓
①甲乙 ②乙丙 ③丙丁 ④甲丁
- 【4】21.臺灣的外籍移工可分為社福移工與產業移工二大類。至 2022 年 8 月底為止，臺灣哪個縣市的外籍移工人數最多？
①臺中市 ②高雄市 ③新北市 ④桃園市
- 【3】22.下列哪些地名，是臺灣早期依海維生的漢人以「海岸地形」所命的地名？ 甲、苓雅寮 乙、覆鼎金 丙、三條崙 丁、青鯤鯓
①甲乙 ②乙丙 ③丙丁 ④甲丁
- 【2】23.臺灣自 1940 年代以來，產業結構的發展歷程可分為： 甲、重化工業時期 乙、農產加工時期 丙、高科技導向時期 丁、出口擴張時期。依時間先後的排列順序為何？
①乙甲丁丙 ②乙丁甲丙 ③甲乙丙丁 ④乙甲丙丁
- 【3】24.臺灣的河流長度為判斷依據，下列何者的河口沖積平原規模最大？
①淡水河口 ②大甲溪口 ③濁水溪口 ④花蓮溪口
- 【4】25.臺灣某海岸有兩個相鄰的岬角，是 80 萬年前火山噴發時安山岩熔岩流所造成的，岩質堅硬，當地有強烈的盛行風及豐富的沙源，海濱植被很少。由以上的條件，本海岸最可能出現下列何種地形？
①潮埔 ②海蝕洞 ③珊瑚礁 ④風稜石
- 【3】26.近年來，臺灣非常重視高科技產業的發展，其目標為產業持續升級。目前臺灣在全球高科技產業分工的最主要優勢為何？
①市場 ②土地 ③技術 ④資金
- 【2】27.某人利用假期進行地理實察，見到梨山蜜蘋果、彰化平原稻作、南投鹿谷茶樹、花蓮瑞穗牧場鮮乳等不同地區呈現相異的農牧業經營特色，這些地區產業活動分布的不同與下列何者關係最密切？
①土壤性質 ②地勢高低 ③外銷需求 ④政策補貼
- 【3】28.「這個縣份山海交錯，風光明媚，原住民族人數很多，例如阿美族、卑南族、排灣族等，展現出多元豐富的文化面貌。」以上敘述最可能是指臺灣哪一個縣份？
①宜蘭縣 ②雲林縣 ③臺東縣 ④屏東縣
- 【4】29.臺灣在產業發展的「出口擴張時期」，最具代表性的工業類型「不包括」下列何者？
①紡織業 ②電子裝配業 ③玩具製造業 ④生物科技業
- 【2】30.「早在清代康熙年間，即因為以水圳的灌溉而發展稻作農業，成為臺灣的米倉。民國 60 年代後，臺灣稻米生產過剩，不少農田改種蔬菜和花卉，近年來，更致力於高價花卉和精緻水果的生產。山區的高冷蔬菜和溫帶水果，也是本區農業的一大特色，使本區成為臺灣的米倉、蔬果籃與花園。」以上敘述是臺灣何區的區域特色？
①北部區域 ②中部區域 ③離島地區 ④東部區域
- 【1】31.彰化社頭地區早年織襪業興盛，今日形成產業的區位優勢雖已有所改變，但當地傳統產業依然持續經營。這種現象最適合以下列何種觀點來解釋？
①工業慣性 ②空間移轉 ③產業升級 ④產業連鎖
- 【2】32.雲林高鐵沿線地層下陷問題備受關注，為解決此問題，興建水庫供應地面水以減緩因抽取地下水所導致的環境問題。請問上述的水庫是指下列何者？
①霧社水庫 ②湖山水庫 ③蘭潭水庫 ④烏山頭水庫
- 【2】33.清朝時在彰化平原修建八堡圳，築堰以引河水灌溉農田，成為臺灣的穀倉。請問八堡圳是引哪一條河流的河水？
①烏溪 ②濁水溪 ③大甲溪 ④大安溪
- 【2】34.「2022 年截至 8 月中旬，尚未有任何一個颱風靠近台灣。不過氣象專家提醒，隨著時序進入秋天，後續的颱風更要留意。因侵襲臺灣北部的颱風發生時間愈接近秋季，其造成的威脅愈大。」上述造成威脅愈大的原因為何？
①中國沿岸流南下 ②東北季風共伴效應 ③颱風發源地靠近臺灣 ④太平洋高壓接近臺灣
- 【3】35.臺灣的水泥工業最早集中在西南部地區，在原料枯竭與政府政令產業東移的影響下關廠或遷徙。請問下列哪一縣市為水泥業遷徙的新發展地區？
①新竹 ②宜蘭 ③花蓮 ④基隆
- 【1】36.許多國家致力於區域結盟來擴大經濟實力，請問臺灣目前已經加入下列哪一個國際組織並取得會籍？
①世界貿易組織(WTO) ②世界衛生組織(WHO)
③區域全面經濟夥伴協定(RCEP) ④跨太平洋夥伴全面進步協定(CPTPP)

【請接續背面】

【4】37.「養水種電」計畫讓地層下陷的魚塭，搖身一變成為發電所，並讓「黑珍珠故鄉」和「養殖王國」成為「太陽能產業專區」。請問上述養水種電是哪一地區發展綠色能源的方式？

- ①臺東縣 ②宜蘭縣 ③彰化縣 ④屏東縣

【1】38.荷鄭時期，安平與台南之間隔著「台江內海」相望，目前安平已遠離海岸數公里。請問：昔日台江內海為何種地形？

- ①瀉湖 ②堰塞湖 ③牛軋湖 ④斷層湖

【1】39.台南美食有「虱目魚羹、蚵嗲」，請問這幾道小吃美食中的「虱目魚、蚵（牡蠣）」屬於台灣西南沿海地區常見的哪種漁業類型的產物？

- ①養殖漁業 ②沿岸漁業 ③近海漁業 ④遠洋漁業

【1】40.報紙報導：「初春三月冷得像冬天！」「中央氣象局表示，今日白天各地仍是晴朗溫暖，北台灣仍有二十七度高溫。但傍晚開始，各地氣溫下降轉冷，中部以北和東半部有降雨發生。明晚北台灣可能下探十一度低溫。」此段時間台灣的天氣狀態可以下列哪一氣候諺語來形容？

- ①風寒雨落正二月 ②西北雨，落不過田埂 ③大熱過頭，冰雹拍頭 ④立夏雨潺潺，米粟無處放

第二部分：第 41-60 題（每題 2 分）

【4】41.澎湖的咾咕石為過去常用的建材，除了房舍，也作為擋風牆之用，請問咾咕石係指下列何者？

- ①大理岩 ②玄武岩 ③安山岩 ④珊瑚礁石灰岩

【1】42.河階是由於河流侵蝕基準面下移，使河流重新下切而形成，下列何種地形形成的「內營力」作用最可能和河階相同？

- ①峽谷 ②溺谷 ③谷灣 ④斷層

【2】43.臺灣生產的釋迦有九成以上集中在臺東，有釋迦之鄉的稱號，請問當地釋迦農最擔心下列何種天候現象使得果實受損，只能先靠灑水護果？

- ①谷風 ②焚風 ③九降風 ④落山風

【2】44.國道 3 號又稱福爾摩沙高速公路，其主要功能在分散車流並均衡城鄉發展，以促進沿線的經濟發展，下列何地為國道 3 號所經之處？

- ①西螺 ②古坑 ③新營 ④左營

【4】45.臺灣早期漢移民的定居地點，與其原鄉生活方式和來臺時間先後有關，請問泉州人在下列何地分布較多？

- ①竹苗丘陵 ②中投山區 ③花東縱谷 ④嘉南沿海

【1】46.臺灣面積不大，卻擁有 268 座 3,000 公尺以上的高山，山脈高度排名在前 100 名的俗稱百岳。以其分布來說，臺灣百岳大致集中在哪一種保護區內？


- ①國家公園 ②國家風景區 ③自然保留區 ④野生動物保護區

【3】47.地名不僅記錄了過去，也乘載著歷史的遺跡。下列各地名何者與日文發音有關？ 甲、淡水 乙、關西 丙、新莊 丁、瑞穗

- ①甲丙 ②甲乙 ③乙丁 ④丙丁

【2】48.臺灣某一個縣市的地形特徵如下：「位於雪山山脈和中央山脈之間，東側面向大洋，兩山之間河流穿流而出，地勢自西往東層層下降。」該縣市的輪廓最可能為【圖 48】何者？

- ①子 ②丑 ③寅 ④卯



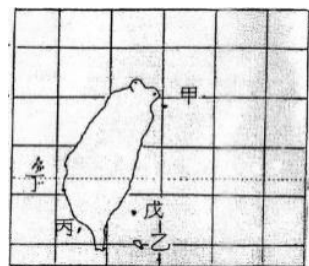
【圖 48】

【3】49.在臺灣不同的歷史階段中，會出現一些具有時代背景特色的地名，例如復興（桃園市復興區）、柳營（臺南市柳營區）、霧臺（屏東縣霧臺鄉）、鹿野（臺東縣鹿野鄉）等。這四個地名出現的時間何者為先？

- ①復興 ②柳營 ③霧臺 ④鹿野

【1】50.【圖 50】為臺灣四周離島的分布圖，其中「戊」島的居民，目前主要是下列哪一個族群？

- ①漢人
②達悟族
③卑南族
④阿美族



【圖 50】

【4】51.臺灣號稱水果寶島，一年四季均有水果生產，各鄉鎮市區也有其著名的特色水果。臺中市新社、臺南市玉井、高雄市大樹、花蓮縣鳳林四個地區，其最著名的特色水果依序為下列何者？

- ①葡萄、芒果、芭樂、文旦 ②柑橘、芒果、荔枝、鳳梨
③草莓、芒果、香蕉、西瓜 ④枇杷、芒果、荔枝、西瓜

【4】52.在臺灣某地方誌中有一段敘述：「自重陽以至清明，東北大風，……。晝夜怒號，洶洶颯颯，或三、四日一發，或五、六日不止。海上行舟，視為畏途。即植物中，枝穎上銳，如……甘蔗等，均不苞蕪，多致零落。晚禾將熟，農家每齊其根而偃之，俾不受風。」以上敘述最可能符合今日臺灣哪一季節哪一縣市的情景？

- ①春季的花蓮縣 ②秋季的新竹縣
③冬季的基隆市 ④冬季的屏東縣

【4】53.某觀光郵輪設計一個繞行臺灣並停靠部分港口的航程，以供民眾至各港口進行旅遊。【表 53】甲至己為該郵輪依序停靠的本島港口，依據各港口的地理位置判斷，該航線應為下列何者？

- ①由東南部出發行經臺灣南部，轉至西部沿海至臺灣北部
②由東南部出發行經臺灣北部，轉至西部沿海至臺灣南部
③由西南部出發行經臺灣北部，轉至東部沿海至臺灣南部
④由西南部出發行經臺灣南部，轉至東部沿海至臺灣北部

港口	經度	緯度
甲	120.15°E	22.99°N
乙	120.27°E	22.62°N
丙	120.75°E	21.93°N
丁	121.18°E	22.78°N
戊	121.62°E	23.98°N
己	121.74°E	25.13°N

【表 53】

【4】54.環島旅行目前是臺灣盛行的旅遊活動，若是從台中出發，以順時針方向進行臺灣四極點燈塔的環島旅行，甲、三貂角燈塔 乙、國聖燈塔 丙、鵝鑾鼻燈塔 丁、富貴角燈塔，請問正確的排序應是下列何者？

- ①甲乙丙丁 ②乙丙甲丁 ③丙丁甲乙 ④丁甲丙乙

【3】55.若以降水和蒸發為考量，下列何處因地勢低，降水少，缺水期長，因而需以海水淡化方式來補充不足的水資源？

- ①埔里盆地 ②蘭陽平原 ③澎湖群島 ④濁水溪沖積扇

【2】56.紅樹林是指生長在熱帶、亞熱帶地區的河流及海岸地帶的鹽生常綠灌木或喬木樹林，它選擇河海交會處的潮間帶黏質度高的灘地著根生長。根據上述條件判斷，下列何地為台灣著名的紅樹林分布區？

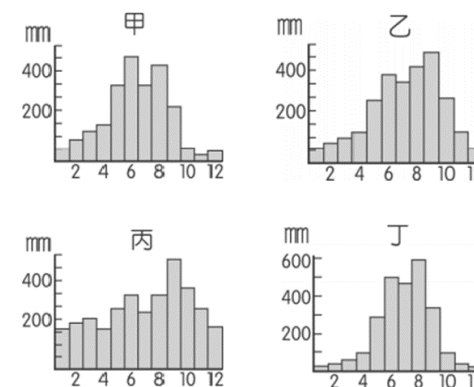
- ①野柳地質公園 ②臺南曾文溪口
③貓鼻頭群礁區 ④和平溪沖積扇

【4】57.一個地區的地名往往蘊含有豐富的地理意涵，以下所列出的地名之中，何者與台灣早期居民從事的農耕活動有關？

- ①麻豆 ②左營 ③萬華 ④六張犁

【4】58.【圖 58】為臺灣北部、中部、南部、東部（未按照順序）四個區域的年降水量圖，請問南部地區最可能是圖中哪一選項？

- ①甲
②乙
③丙
④丁



【圖 58】

【1】59.臺灣位於歐亞板塊與菲律賓海板塊的碰撞帶，使得台灣大部分地區的地殼逐漸上升。下列哪一地形「非屬」臺灣地殼隆起的證據？

- ①基隆港的谷灣地形 ②桃園大溪的河階群
③花東地區的海階地形 ④恆春地區珊瑚礁台地

【1】60.台北港興建後，港口北防波堤垂直於海岸線，向外突出延伸。當沿岸流由北往南流動時，港口南北海岸遂形成「突堤效應」。請問在堤防興建後，堤防南北海岸地形演育有何改變？

- ①北方海岸堆積明顯 ②南方海岸堆積明顯
③南北海岸皆有明顯堆積 ④南北海岸皆被嚴重侵蝕